

ČETRTEK, 20. 1. 2022

SPOZNAVANJE OKOLJA



Ali kdo izmed vas rad zahaja v hribe, gore? Kam si se z družino že odpravil? V okolici Borovnice je kar nekaj vzpetin oz. hribov: Trebelnik, Planina pri Borovnici, Pokojišče.

Vzpetine so torej različno visoke – nižja so gričevja, višja so hribovja in najvišja so gorovja.

V učbeniku na strani 37 si preberi učno snov. Na ZOOM srečanju, ob 8.30, bomo še skupaj predelali to učno snov.

SLOVENŠČINA – vejica pri naštevanju

Prepiši povedi v zvezek in pazi na vsa ločila (vejice in končna ločila).

Meseci v letu so januar marec maj in junij

Pozimi se radi sankamo drsamo kepamo in smučamo

Lani smo si ogledali Kranj Maribor in Ljubljano

Matjaž je na rojstni dan povabil Petra Mašo Andreja in Živo

Kdaj bo nehalo deževati

Joj kako lepo darilo

Sošolec Jan rad igra tenis nogomet in šah

Koliko denarja potrebuješ za novo kolo drsalke in smuči

Zjutraj sem vstal pojedel zajtrk pripravil torbo in odšel v šolo

Kako si pa ti preživel dan

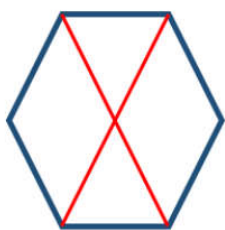
MATEMATIKA

Ponovili bomo poštevanke na drugačen način.

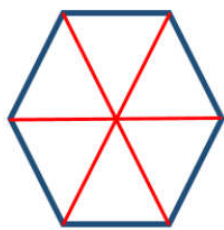
<https://wordwall.net/resource/9132397/zabavna-po%c5%a1tevanka-in-deljenje>

Reši še besedilne naloge v karo zvezek – naslov **VAJA**

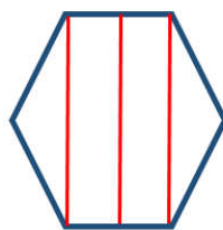
1. Nina ima 20 barvic. Zložila jih bo v lončke po 4, v vsakega enako. Koliko barvic bo v vsakem lončku?
2. V sobi je 6 polic in na vsaki polici je po 5 avtomobilčkov. Koliko avtomobilčkov je na vseh policah?
3. Jan ima 9 vrečk in v vsaki vrečki je po 5 frnikol. Jan je iz vsake vreče vzel po eno frnikolo. Koliko frnikol je sedaj v vseh vrečkah skupaj?
4. Imaš 18 avtomobilčkov, polovico jih boš dal prijatelju. Koliko avtomobilčkov boš dal prijatelju? Koliko jih bo ostalo tebi? NARIŠI in ODGOVORI.
5. Kateri liki so razdeljeni na **četrtno**? Zapiši številko odgovora.



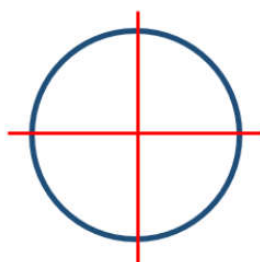
1.



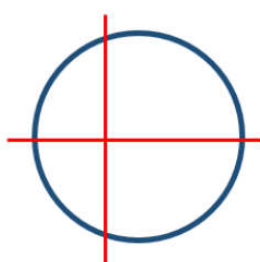
2.




3.



4.



5.



6.